

# MATEMÁTICAS

Estimadas familias:

Coincidiendo con la entrada del mes de junio y como se acorta la jornada escolar, las próximas dos semanas del mes se va a enviar un plan de trabajo conjunto en la que las actividades van a ser lúdicas.

Además, se les recuerda que el día que sean citados por los tutores para recoger el material, han de traer al centro el cuaderno de actividades en el que el alumnado ha realizado las tareas durante el periodo de no asistencia a clase, junto con los libros de beca y de préstamo de biblioteca.

En concreto, en matemáticas, se van a enviar 1 ficha; la primera será la ficha de repaso del tema anterior (que será obligatorio entregar) y una batería de pasatiempos, juegos, retos, crucigramas..., que podrán organizarse como deseen.

**FICHA 1. (obligatorio presentarla)**

**Nombre:** ..... **Tema 7. División de N° Decimales.**

**1°.- Resuelve:**

$$32,7 : 10 =$$

$$32,7 : 1000 =$$

$$124,6 : 1.000 =$$

$$124,6 : 100 =$$

$$14,81 : 1.000 =$$

$$14,81 : 10 =$$

**2°.- Calcula:**

$$50,1 : 5,7 =$$

$$386 : 7,5 =$$

$$1,90 : 8,4 =$$

$$638,5 : 4,044 =$$

**3°.- Calcula las divisiones y di cuál es el cociente y el resto:**

$$7,99 : 1,5 =$$

$$846 : 2,2 =$$

**4°.-Aproxima:**

**Con una cifra decimal:**  $778,9 : 40,1$

**Con dos cifras decimales:**  $12,14 : 9,45$

**Con tres cifras decimales:**  $8,109 : 77,7$

**5°.-Halla la expresión decimal:**

$$\frac{4}{5} =$$

$$\frac{13}{2} =$$

$$\frac{8}{5} =$$

**6°.-** Lucía quiere repartir una bolsa de abono, que pesa 1.749,6 gramos, entre 12 macetas. ¿Qué cantidad de abono le corresponde a cada maceta?

**7°.-** Un veterinario quiere repartir 1,5 litros de vacuna en frascos de 0,05 litros. ¿Cuántos frascos llenará?

## JUEGOS Y RETOS

1.

Coloca los siguientes números en los círculos, de manera que cada grupo de tres que quede conectado por una línea recta sume 45.

12 27 9 3 21 6 18 24  
15

2.

Escribe el número correspondiente en cada espacio vacío. Cada uno es el resultado de la suma de las dos cifras que tiene encima.

3 2 9  
3 4 9  
1 7 3  
2 7 9

3.

Escribe las cifras necesarias para completar la operación.  
Después, sigue la equivalencia entre números y letras que aparece en el recuadro y descubrirás la palabra escondida.

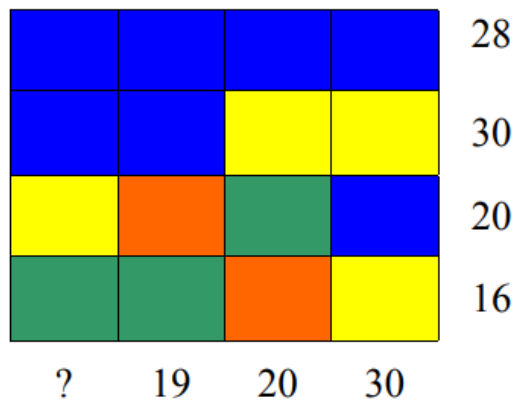
1	2	3	4	5	6	7	8	9
U	I	Q	E	A	R	D	S	O

4      3 ×    2 = 5   7     

E   \_   \_   \_   \_   \_   \_   \_

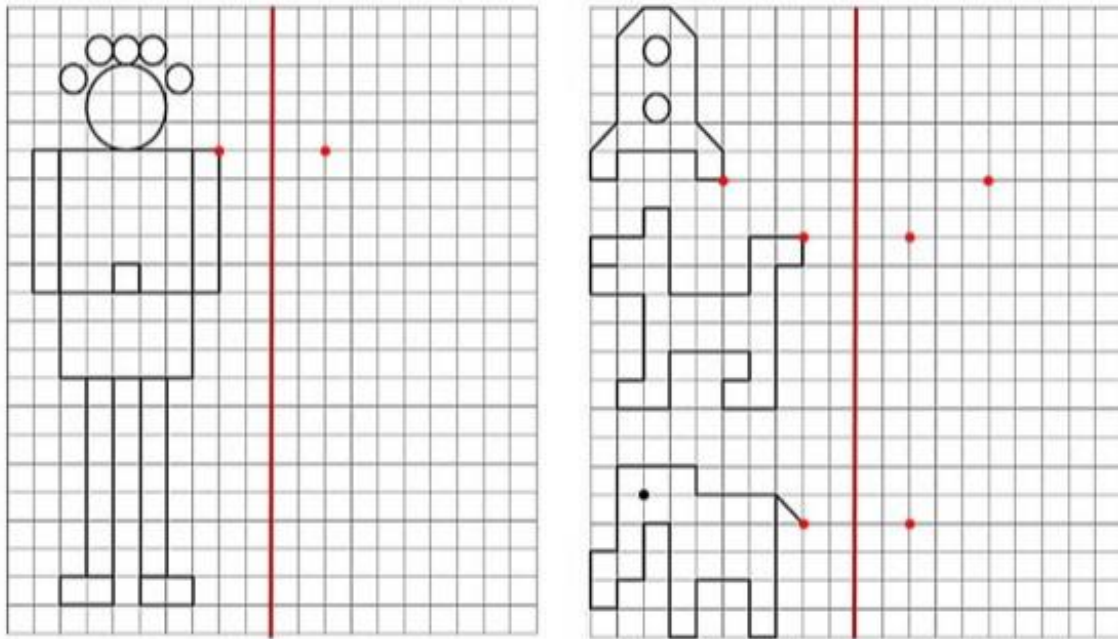
4.

Calcula el valor del interrogante sabiendo que cada color vale diferente.




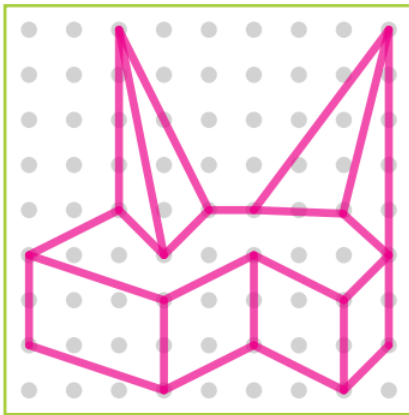
5.

Dibuja las figuras simétricas respecto del eje de simetría. Para ello cuenta los cuadritos.




6.

Reproduce la figura de la izquierda en forma simétrica guiándote por los puntos.



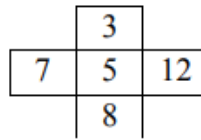
: materiaindianpendizate com

7.

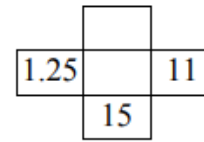
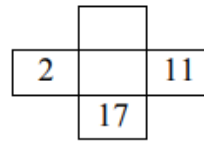
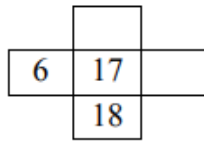
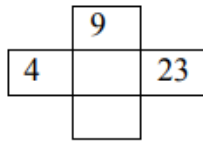


• **CRUCES DE SUMAS**

Una cruz de sumas es un diagrama del tipo:



Resuelve estas cruces:




9.

**SOPA DE NÚMEROS**

Encuentra en la sopa de números las siguientes cantidades.

- Quinientos noventa y seis mil cuatrocientos treinta y dos
- Trece mil quinientos setenta y seis
- Cuatrocientos cincuenta y dos mil ciento setenta y cuatro
- Cuatro millones seiscientos diecinueve mil trescientos cincuenta y dos
- Tres millones novecientos sesenta y siete mil cuatrocientos sesenta y nueve
- Seis millones cuatrocientos ochenta mil setecientos treinta y siete
- Dos millones quinientos veintitrés mil doscientos cuarenta y dos
- Setecientos cincuenta mil ciento cuarenta y siete
- Ochenta y dos millones ciento cincuenta y dos mil trescientos sesenta y cinco
- Doscientos setenta y nueve mil doscientos noventa y dos
- Veinte millones doscientos treinta y cinco mil veintiséis
- Ochocientos veinticuatro mil trescientos veintisiete

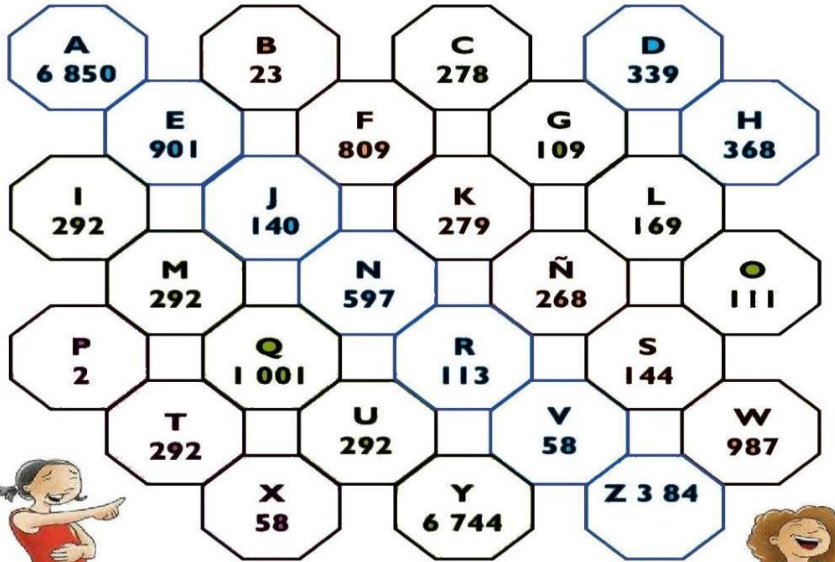




10.

**MENSAJE EN CLAVE**

Encuentra el mensaje oculto y escríbelo. La clave está en los resultados de las restas.



- 1. 2000-1856
- 2. 864-572
- 3. 3005-2896
- 4. 4972-4680
- 5. 5900-4999

- 6. 685-516
- 7. 9685-2835
- 8. 485-372
- 9. 329-37
- 10. 2859-1997

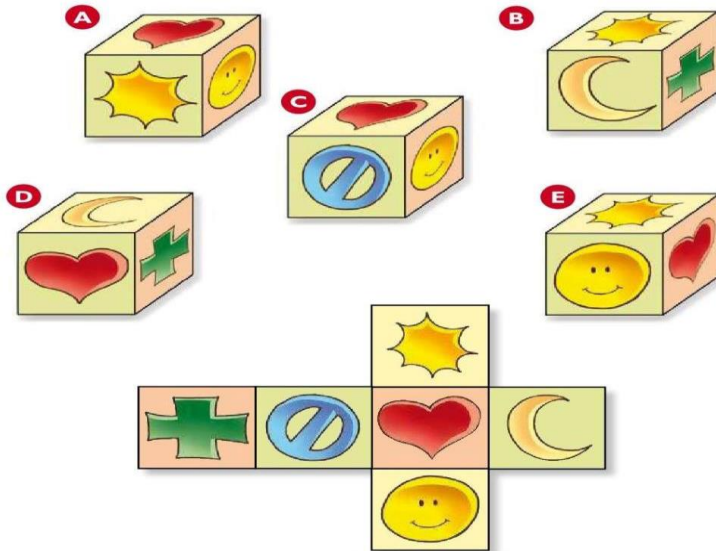
- 11. 9994-3144
- 12. 8321-7982
- 13. 5900-4999
- 14. 685-516
- 15. 9303-2453

- 16. 533-420
- 17. 1064-772
- 18. 2000-1856
- 19. 7339-489

11.

**EN BUSCA DEL CUBO**

Uno de los cubos armados corresponde al cubo abierto. ¿Cuál es?



12.

¿Qué tiros se necesitan para ganar cada juguete?

La muñeca  
El carrito de cuerda  
La grabadora  
La patineta .

