

PLAN DE TRABAJO PERIODO SUSPENSIÓN ACTIVIDAD DOCENTE PRESENCIAL 6º PRIMARIA SEMANA DEL 11 AL 15 DE MAYO

CEIP. El Greco

TEMPORALIZACIÓN: Semana del 11 al 15 de mayo.

MATERIAS/NIVEL: Ciencias Sociales 6º.

DOCENTE: Laura Alonso López



SEMANA DEL 11 AL 15 DE MAYO				
DÍA	MATERIA	CONTENIDOS/ESTÁNDARES TRABAJADOS	TAREA A REALIZAR	EVALUACIÓN
Miércoles 11 de mayo de 2020	SOCIALES	<ul style="list-style-type: none"> Reconocer las características generales de los ríos de España. Identificar las diferentes vertientes de España. Conocer la zona española por la que se extiende la vertiente cantábrica y saber cuales son sus ríos. Diferenciar su cuenca hidrográfica y vertiente. Repasar y afianzar los contenidos de la unidad. Ampliar conocimientos relaciones con los contenidos de la unidad. Dibujar mapas de los ríos de España y Europa. 	<p>Ficha1: Los ríos de Europa y España.</p> <p>• Ficha 2: Repaso de la unidad 1.. ENVIAR A LA MAESTRA.</p>	Los alumnos realizarán las tareas en su cuaderno y se autocorregirán. Se evaluarán los contenidos que los alumnos realicen en este período a través de las tareas diarias y fichas de repaso.
Viernes 15 de mayo de 2020		<ul style="list-style-type: none"> Repasar y afianzar los contenidos de la unidad. Ampliar conocimientos relaciones con los contenidos de la unidad. Dibujar mapas de los ríos de España y Europa. 	<p>• Ficha 3: Repaso de la unidad 2.. ENVIAR A LA MAESTRA.</p>	
<p>OBSERVACIONES:</p> <ul style="list-style-type: none"> Vamos a comenzar a repasar los contenidos del primer trimestre. Esta semana trabajamos el Tema 1. El relieve de España y de Europa y el Tema 2. Las aguas y los climas de Europa y de España. Para poder realizar adecuadamente las actividades los alumnos pueden ayudarse tanto del libro como de los apuntes que tenemos en el cuaderno de clase. Las actividades se realizan en el cuaderno específico y posteriormente se auto- 				



corregirán ellos mismos, no hace falta copiar los enunciados. Si disponéis de impresora se pueden imprimir.

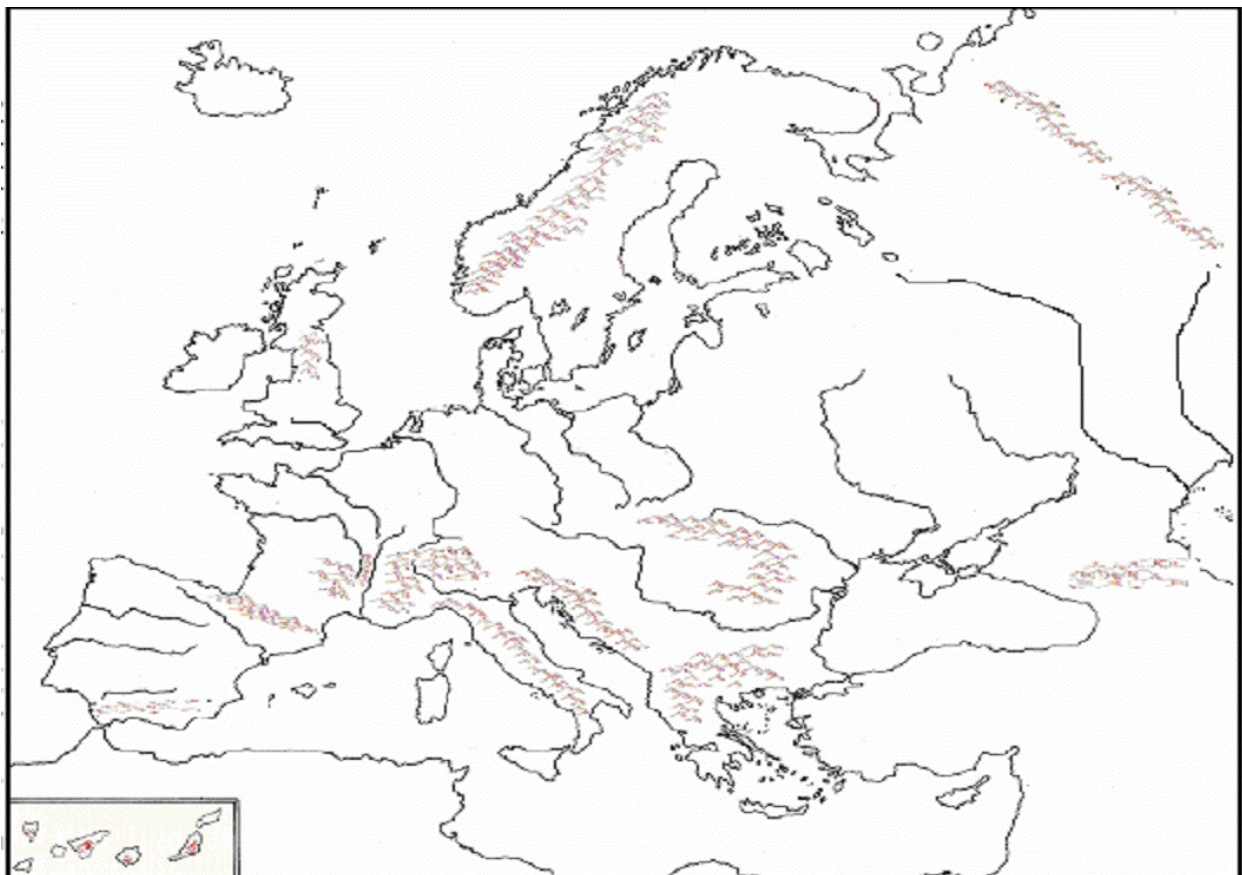
- Se incluyen las **soluciones** de los ejercicios de la semana anterior.
- Adjunto varios **documentos**:
 - Ficha 1. Los ríos de Europa y España.
 - **Ficha 2 y ficha 3** Repaso de unidades 1 y 2. **(ESTAS FICHAS SE ENVÍAN A LA MAESTRA)**
 - Fichas de ampliación que realizará de manera **optativa** el alumno que lo desee. **No hay que enviar la ficha.**
- **Enlaces de internet**, sigo incluyendo los videos explicativos para el desarrollo de todo el tema 1, además añadido más enlaces relacionados con el tema 2; y también enlaces de juegos interactivos por si a algún niño le resulta más divertido y quiere practicar.
 - El relieve de España: https://youtu.be/ZvkalzP_Q50
 - El relieve de España: <https://youtu.be/J99ZlymKjVU>
 - El relieve insular: <https://youtu.be/Uw4ccS1Nj4c>
 - El relieve de Europa: <https://youtu.be/Y9jKDgvBpil>
 - El relieve de Europa: https://youtu.be/o1atR7_pSuk
 - Mapa físico de Europa: <https://youtu.be/-XbV7cyqfvQ>
 - Juego interactivo: <https://mapasinteractivos.didactalia.net/>
 - Juego interactivo: <https://www.cerebriti.com/juegos-de-geografia>
 - Juego interactivo: <https://es.educaplay.com/recursos-educativos>
 - Juego interactivo: <https://www.mundoprimaria.com/juegos-educativos/juegos-mapas-espana/elementos-relieve>
 - Juego interactivo: <https://online.seterra.com/es/vgp/3453>
 - Costas de España: <https://youtu.be/iwEIDynm9U8>
 - Climas de Europa: https://youtu.be/W_fh64igVEM
 - Cimas de España: <https://youtu.be/VISy4MRTKmA>
 - Climogramas: https://youtu.be/1r8uW_0Rcxk
 - Juego interactivo climograma: <https://www.cerebriti.com/juegos-de-geografia/climogramas-y-climas-espanoles>
 - Juego interactivo climograma: <https://es.educaplay.com/recursos-educativos/803597-climogramas.html>
 - Ríos de España: <https://youtu.be/wEOE530UlwM>
 - Ríos de España: <https://youtu.be/4zJeGySLKPc>

UNIDAD 1: EL RELIEVE DE EUROPA Y DE ESPAÑA.

NOMBRE: **FECHA:** **CURSO:**.....

1-Escribe el número de las siguientes unidades de relieve en el lugar correspondiente:

- | | |
|----------------------------------|------------------------|
| 1. Montes Escandinavos | 6.Alpes |
| 2. Montes Urales | 7.Cárpatos |
| 3. Llanura de la Europa Oriental | 8.Balcanes |
| 4. Pirineos | 9.Gran llanura Europea |
| 5. Apeninos | 10.Caúcaso |



2-Escribe el nombre de cinco mares en el mapa de la actividad anterior.

3-Escribe los límites del territorio español.

Norte:

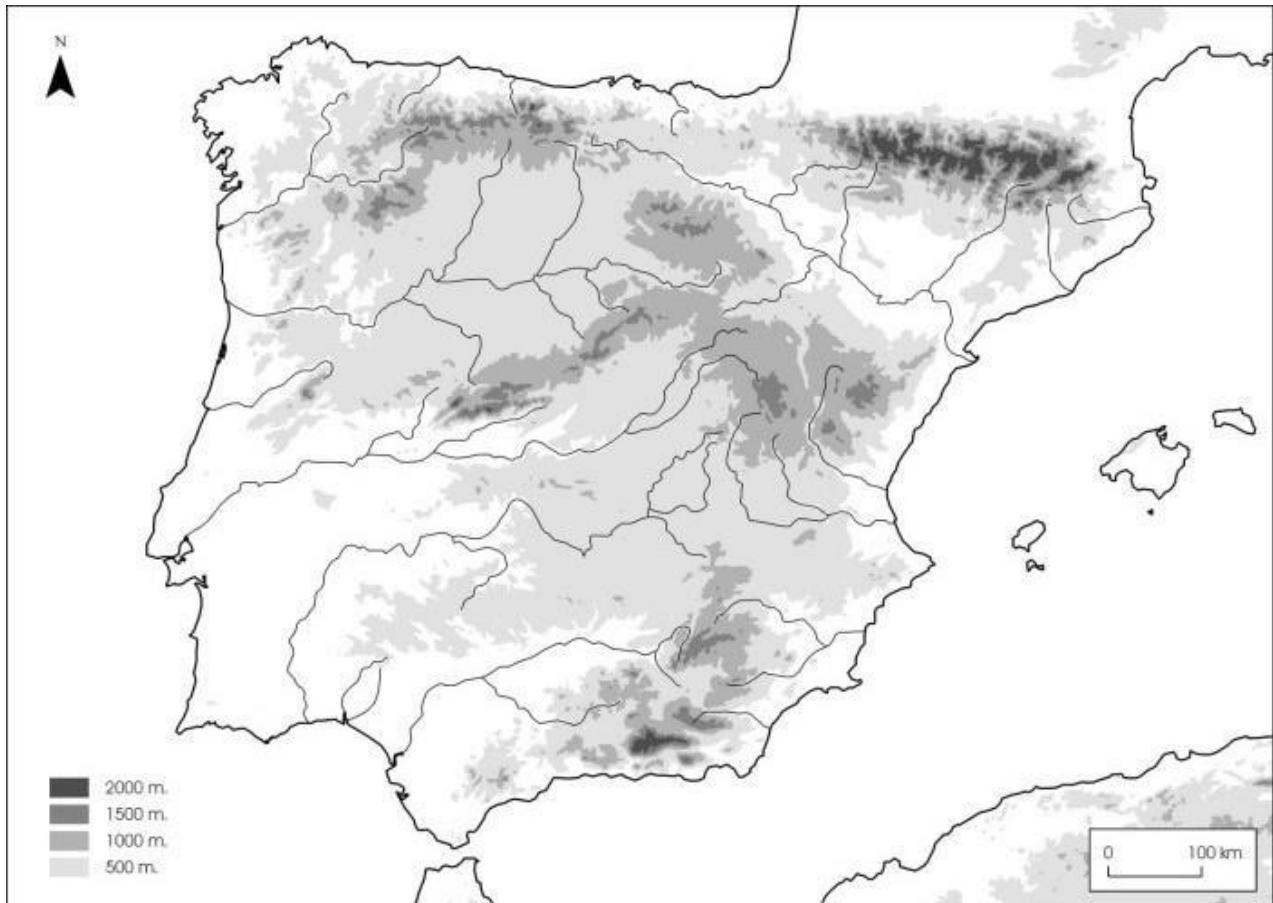
Sur:

Este:

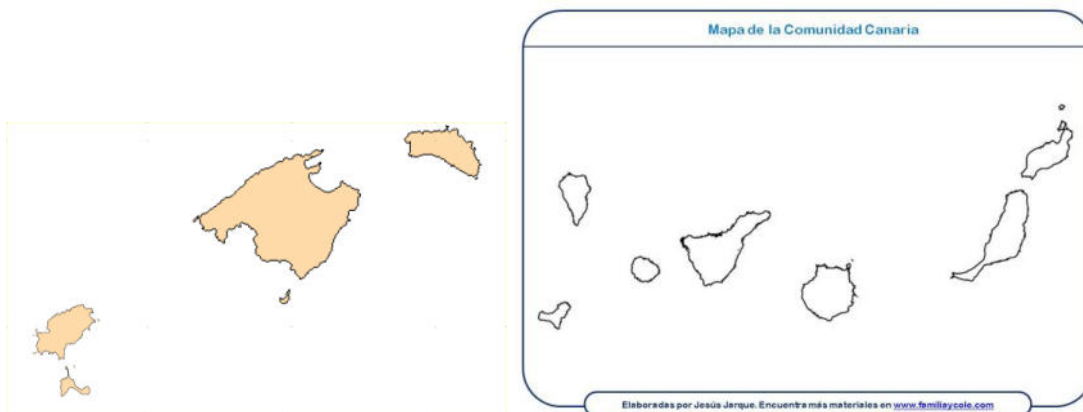
Oeste:

4. Completa el mapa físico de España con el número correspondiente a cada sistema montañoso indicado en el recuadro.

1. Macizo Galaico	6. Sistema Central
2. Montes Vascos	7. Cordillera Cantábrica
3. Sistema Costero Catalán	8. Meseta central
4. Montes de Toledo	9. Sistema Ibérico
5. Depresión del Ebro	10. Sistemas Béticos

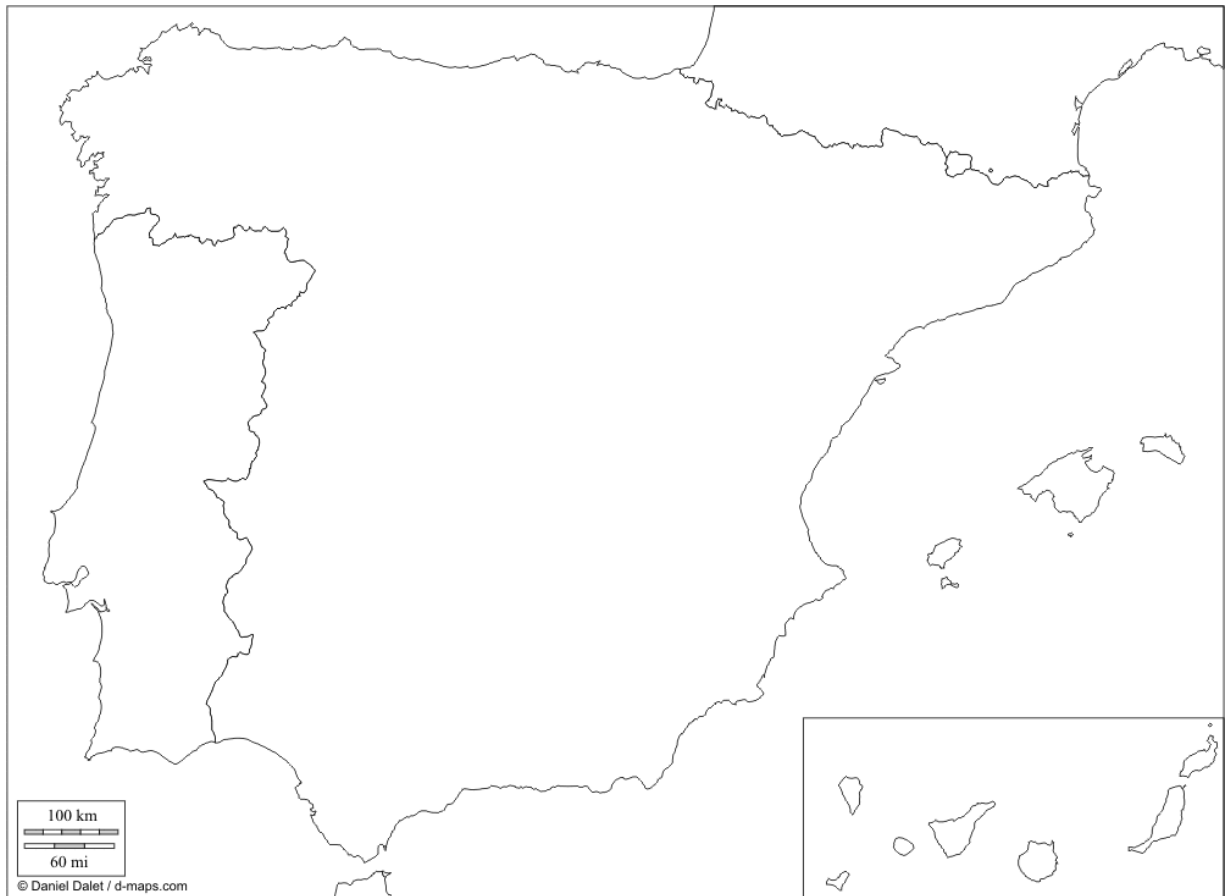


5. Escribe el nombre de cada isla en los mapas.



6-Completa el mapa:

Cabo de Creus, Golfo de Vizcaya, Cabo de la Nao, Golfo de Valencia, Cabo de Gata, Cabo de Fisterra, Cabo de Palos, Punta de Estaca de Bares, Golfo de Cádiz, Cabo de Trafalgar.



7-Escribe los límites de Europa.

Norte:

Sur:

Este:

Oeste:

8. Escribe los nombre de las tres costas españoles e indica las zonas en que se dividen.

.....

.....

.....

.....

.....

9. ¿Qué territorios forman España?

.....

.....

.....

.....

.....

10. Explica las diferencias entre las costas de la Península Escandinava y la mediterránea.

.....

.....

.....

.....

.....

FICHA REPASO CIENCIAS SOCIALES VIERNES 15 DE MAYO

UNIDAD 2: CLIMAS Y VEGETACIÓN DE EUROPA Y DE ESPAÑA.

NOMBRE: **FECHA:** **Curso:**

1. Completa esta tabla con el nombre de las vertientes europeas y dos ríos de cada una de ellas.

LAS VERTIENTES DE EUROPA				
Vertiente	Vertiente	Vertiente	Vertiente	Vertiente
Río	Río	Río	Río	Río

2. Elabora un esquema con los tipos de climas que se dan en Europa. Explica brevemente sus características.

	templados			fríos	
CLIMAS					
zonas					
temperaturas					
precipitaciones					

3. Di con qué clima europeo relacionarías estos tipos de vegetación.

- Tundra:
- Landa:
- Estepa:
- Taiga:
- Jara y romero:

4. Contesta.

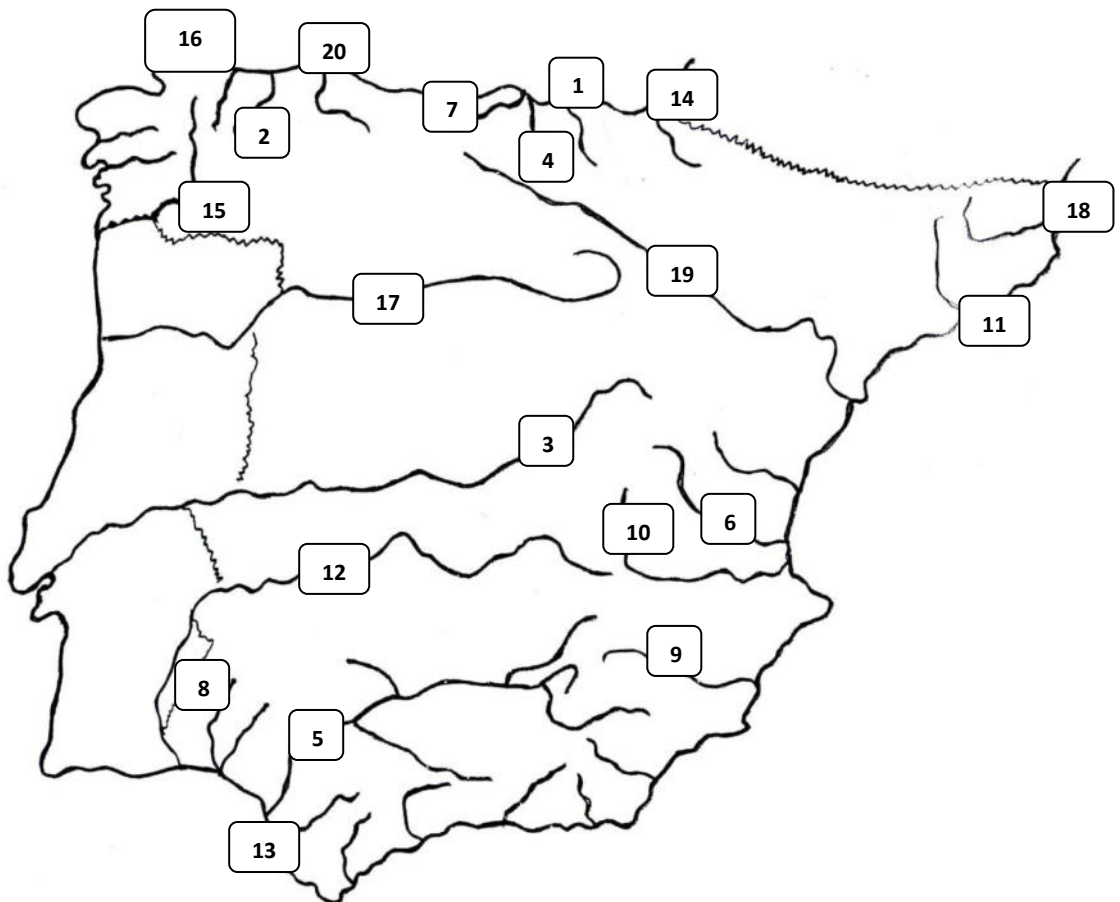
- ¿Por qué zonas se extiende la vertiente cantábrica?
- Explica las características de los ríos que pertenecen a ella?

.....

.....

.....

5. Escribe el nombre de los ríos que se corresponden con cada número.



- 1
- 2
- 3
- 4
- 5
- 6
- 7
- 8
- 9
- 10

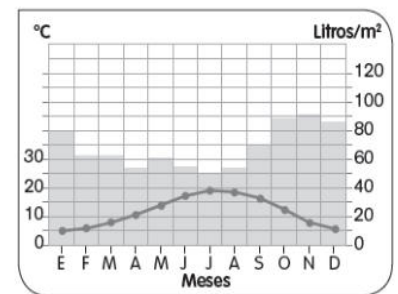
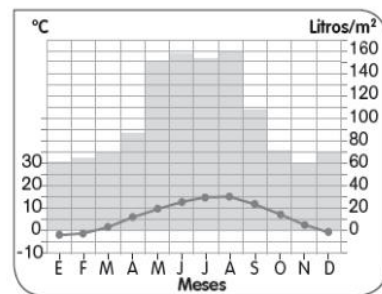
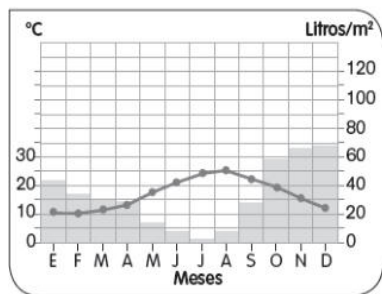
- 11
- 12
- 13
- 14
- 15
- 16
- 17
- 18
- 19
- 20

6. Enumera los afluentes del río Ebro que hemos estudiado en clase.

.....

7. Escribe el nombre del clima al que corresponde cada climograma.

mediterráneo
de montaña
continental



.....

.....

.....

8. Explica el clima de la zona en la que vives.

.....

.....

.....

.....

.....

.....

.....

Nombre _____ Fecha _____

REPASA ESTA INFORMACIÓN.

Los **ríos de Europa**, en general, son bastante largos y caudalosos, y vierten sus aguas en cinco vertientes. Los **ríos de España** vierten sus aguas en tres vertientes: la cantábrica, la atlántica y la mediterránea.

1 Completa esta tabla sobre los ríos de Europa.

Vertiente	Características	Ejemplo
Mediterránea		
Atlántica		
Mar Negro		
Mar Caspio		
Ártica		

2 Observa el mapa y escribe en la tabla el número y el nombre del río de España en su vertiente correspondiente. Después colorea cada vertiente como se indica.



Vertiente mediterránea (morado)

Vertiente atlántica (amarillo)

Vertiente cantábrica (verde)